



- 1 V parku roste 8 stromů vysokých a 7 nízkých.
Kolik je to celkem stromů?



Znázorni: _____ Vyznač desítku.
Vypočítej: _____
Napiš odpověď: _____

- 2 První vlak měl 13 vagónů. Druhý vlak má o 5 vagónů více.
Kolik vagónů má druhý vlak?



Má o 5 více, musíme...

Znázorni: první vlak: _____
druhý vlak: _____
Vypočítej: _____
Napiš odpověď: _____

- 3 Ukaž na číselné ose a vypočítej.



$9 + 5 =$	$8 + 6 =$	$8 + 5 =$	$9 + \quad = 18$	$9 + \quad = 16$
$8 + 3 =$	$9 + 4 =$	$8 + 4 =$	$8 + \quad = 16$	$8 + \quad = 14$
$9 + 7 =$	$8 + 7 =$	$9 + 6 =$	$8 + \quad = 11$	$9 + \quad = 11$
$9 + 2 =$	$9 + 3 =$	$9 + 8 =$	$9 + \quad = 14$	$8 + \quad = 15$

- 4 V zoologické zahradě mají 8 malých opiček. Velkých opic je tam o 5 méně.
Kolik velkých opic mají v zoologické zahradě?



Je tam o 5 méně, musíme...

Znázorni: malé opičky: ○○○○○○○○
velké opice: ○○○ o 5 méně

Vypočítej: _____
Napiš odpověď: _____

- 5 Opakuj. 6 Napiš čísla:

$19 - 7$	$18 - 7$
$14 + 3$	$11 + 5$
$20 - 5$	$13 + 4$
$19 - 6$	$12 + 7$

$14 + 6$	$17 - 6$
$13 - 2$	$16 - 4$
$15 + 4$	$11 + 9$
$16 - 5$	$17 + 3$

o 4 větší

8	
5	
9	
10	
15	
3	
12	

o 2 menší

9	
7	
12	
10	
18	
14	
5	

o 3 větší

13	
9	
7	
12	
17	
5	
8	




o 5 menší

10	
8	
19	
17	
20	
9	
16	



OPAKOVÁNÍ A PROCVIČOVÁNÍ UČIVA **GEOMETRIE**

Narýsuj:

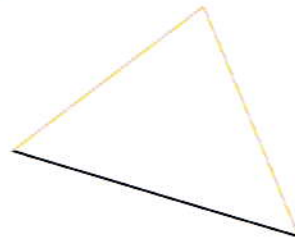
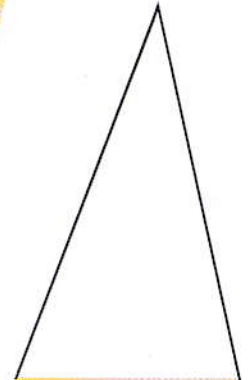
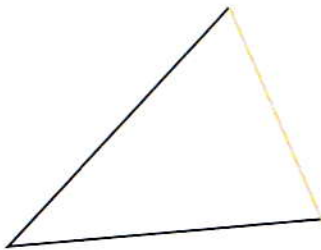
ČTVERCE




OBDÉLNÍKY



TROJÚHELNÍKY



- 1 Marek koupil ____ hrušek a ____ jablíček.
Kolik kousků ovoce je to celkem?



10 kousků ovoce dej do košíčku.

Znázorni:

Vyznač desítku.


Vypočítej:

Napiš odpověď:

- 2 Znázorni a vypočítej.

	$7 + 3 + 1 =$	$7 + 4 =$
		$7 + 5 =$
		$7 + 6 =$
		$7 + 7 =$
		$7 + 8 =$
		$7 + 9 =$

- 3 V obchodě mají 7 jízdnicích kol pro dospělé a 5 dětských kol.
Kolik jízdnicích kol je to celkem?



Znázorni:

Vyznač desítku.

Vypočítej:

Napiš odpověď:

- 4 Procvičuj.



$3 + \underline{\quad} = 6$	$3 + \underline{\quad} = 5$	$7 + 4 = \underline{\quad}$	$7 + 8 = \underline{\quad}$	$9 + 9 = \underline{\quad}$
$3 + \underline{\quad} = 4$	$3 + \underline{\quad} = 8$	$7 + 6 = \underline{\quad}$	$7 + 5 = \underline{\quad}$	$8 + 6 = \underline{\quad}$
$3 + \underline{\quad} = 7$	$4 + \underline{\quad} = 9$	$7 + 7 = \underline{\quad}$	$8 + 9 = \underline{\quad}$	$8 + 5 = \underline{\quad}$
$3 + \underline{\quad} = 9$	$4 + \underline{\quad} = 7$	$7 + 9 = \underline{\quad}$	$8 + 7 = \underline{\quad}$	$8 + 8 = \underline{\quad}$

- 5 Změň pořadí sčítanců a vypočítej.

$8 + 7 =$	$3 + 9 =$	$7 + 4 =$	$8 + 6 =$	$7 + 6 =$
$7 + 8 =$				

1 V mateřské školce mají ____ bubínků a ____ panenek.
Kolik hraček mají ve školce celkem?



10 hraček uklid' do skřínky.

Znázorni:

Vyznač desítku.

Vypočítej:

Napiš odpověď:

2 Znázorni a vypočítej.

3 Opakuj.

	$6 + 4 + 1 =$	$6 + 5 =$
		$6 + 6 =$
		$6 + 7 =$
		$6 + 8 =$
		$6 + 9 =$

$7 + 5$	$7 + 9$
$9 + 4$	$8 + 4$
$8 + 7$	$9 + 3$
$9 + 8$	$8 + 8$
$8 + 6$	$7 + 7$

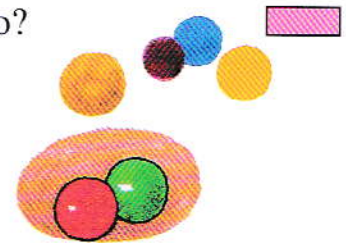
4 Jakub měl 16 kuliček. 5 kuliček prohrál. Kolik kuliček mu zbylo?

Znázorni:

Vyznač desítku.

Vypočítej:

Napiš odpověď:



5 Děti postavily z písku 6 báboviček velkých a 7 malých.
Kolik je to celkem báboviček?

Znázorni:

Vyznač desítku.

Vypočítej:

Napiš odpověď:



6 Procvičuj.

$4 +$ $= 7$	$6 + 8 =$	$6 + 6 =$	$8 + 4 =$	$9 + 6 =$
$4 +$ $= 9$	$6 + 5 =$	$8 + 6 =$	$9 + 5 =$	$7 + 8 =$
$4 +$ $= 6$	$6 + 7 =$	$6 + 4 =$	$7 + 7 =$	$8 + 9 =$
$4 +$ $= 8$	$6 + 9 =$	$8 + 5 =$	$9 + 7 =$	$9 + 8 =$